

青少年科技素养水平测试 二级 模拟试卷 2

(时长: 45 分钟 总分: 100 分)

一、连线题 (共 3 题, 每题 10 分, 共 30 分) 得分: _____

1. 请将下面图片与词配对, 并将它们连起来。




A



B



C



D



E

吸引

1

排斥

2

简单机械

3

力

4

运动

5

2. 动物的食物多种多样, 有的动物只吃植物, 有的动物只吃动物, 有的动物既吃动物又吃植物, 请根据动物吃的食物对动物进行分组, 并将动物与它们所对应的组别连起来。



A



B



C



D



E

只吃植物

1

吃植物和动物

2


只吃其他动物

3

3. 地球表面一直在发生变化, 仔细观察下列图片, 哪些是地球发生的缓慢变化? 哪些是剧烈变化? 用线将它们连起来。



A



B



C



D



E

地球的缓慢变化

1

地球的剧烈变化

2

二、画图题 (共 1 题, 共 20 分) 得分: _____

地球内部结构包括地壳、地幔和地核, 请在下列方框中画出地球内部的结构并写出它们的名称。


地区:

姓名:

准考证号:

成绩:

评判签字:



三、实践操作题（共1题，共50分） 得分: _____

（根据实验案例进行练习）